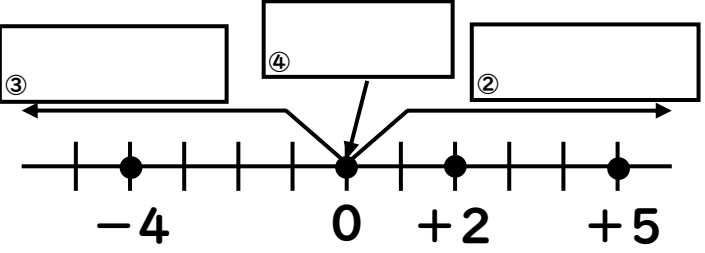
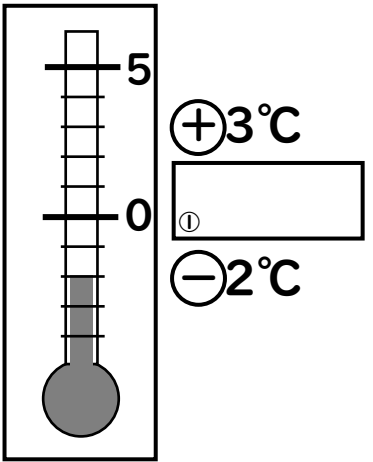


# <正負の数>



正の整数…  ⑤

+3, -2,  $-\frac{2}{3}$ , 7, -0.6, 0

負の数をすべて答えよ。  ⑥

整数をすべて答えよ。  ⑦

自然数をすべて答えよ。  ⑧

正の数でも負の数でもないものはどれか。  ⑨

符号を使って表せ。

0より5大きい数 → +5

0より7大きい数 →  ⑩

0より4小さい数 →  ⑪

0より $\frac{2}{5}$ 小さい数 →  ⑫

北へ500m進む → +500

北へ700m進む →  ⑬

南へ900m進む →  ⑭

符号を逆にして表せ。

-500円もらった →  ⑮

-3cm伸びた →  ⑯

-20分前 →  ⑰

-300円の支出 →  ⑱

+700円の利益 →  ⑲

不等号を使って数の大小を表せ。

+2  ⑳ +4

-4  ㉑ +5

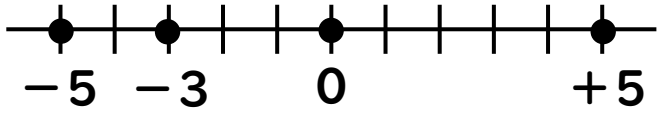
-2  ㉒ -4

-3  ㉓ -2

-0.2  ㉔  $-\frac{2}{5}$

-0.1, 0, -0.01

㉕



原点からの距離…  ㉖

-5の絶対値  ㉗

-3の絶対値  ㉘

+5の絶対値  ㉙

絶対値が5になる数  ㉚

絶対値が7になる数  ㉛

絶対値が0になる数  ㉜